

**H
E
K
A
S
I
4**

Modified In-School Off-School Approach Modules (MISOSA)
Distance Education for Elementary Schools
SELF-INSTRUCTIONAL MATERIALS



**MGA REHIYON
NG BANSANG**



Department of Education
BUREAU OF ELEMENTARY EDUCATION
2nd Floor Bonifacio Building
DepEd Complex, Meralco Avenue
Pasig City

Revised 2010

by the Learning Resource Management and Development System (LRMDS),
DepEd - Division of Negros Occidental
under the Strengthening the Implementation of Basic Education
in Selected Provinces in the Visayas (STRIVE).

Section 9 of Presidential Decree No. 49 provides:

“No copyright shall subsist in any work of the Government of the Republic of the Philippines. However, prior approval of the government agency or office wherein the work is created shall be necessary for exploitation of such work for profit.”

This material was originally produced by the Bureau of Elementary Education of the Department of Education, Republic of the Philippines.

This edition has been revised with permission for online distribution through the Learning Resource Management Development System (LRMDS) Portal (<http://lrmds.deped.gov.ph/>) under Project STRIVE for BESRA, a project supported by AusAID.



GRADE IV

MGA REHIYON NG BANSA



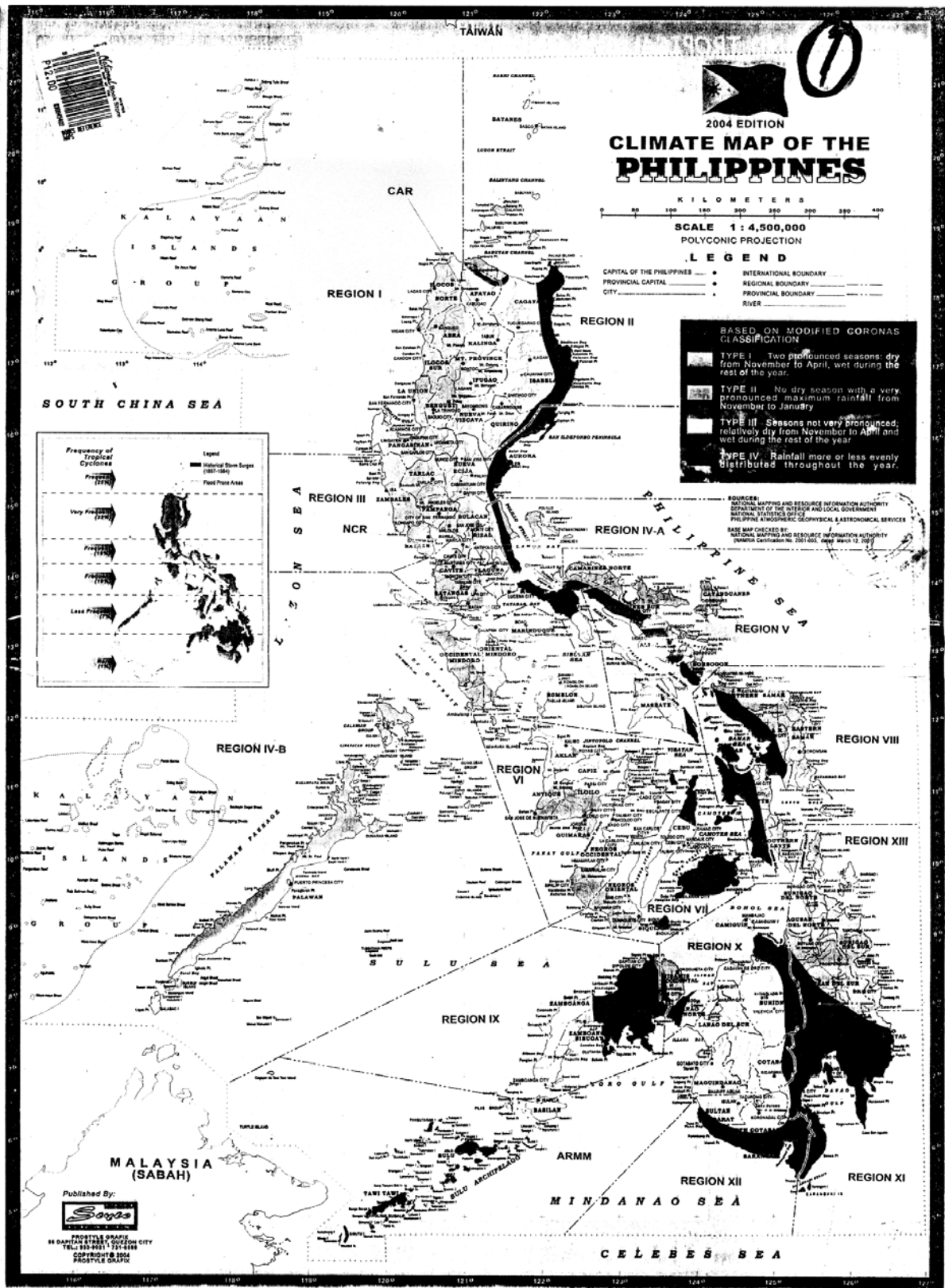
ALAMIN MO

Ang ating bansa ay mahahati sa mga rehiyon. Hinati-hati ito upang maging maayos at mabilis ang pamamahala sa bansa. Ang mga pulo at lalawigan sa Pilipinas ay pinagpangkat-pangkat sa bisa ng Atas ng Pangulo Bilang 773. Tinawag itong mga rehiyon.

Sa modyul na ito, matututuhan mo:

- ang 17 rehiyon ng bansa
- maituro sa mapa ng Pilipinas ang iba't ibang rehiyon at mga lalawigang bumubuo sa bawat isa







PAGBALIK-ARALAN MO



PAG-ARALAN MO

Noong una, mayroon lamang labintatlong (13) rehiyon. Sa pagbabago ng mga pamamahala at kalagayang pangkabuhayan at pampulitika nabago ang mga pagkakahati-hati ng mga rehiyon sa bansa. Sa kasalukuyan ay narito ang talaan ng mga rehiyon. Tingnan mo ang talahanayan. Pag-aralan ang mga ito.

	BILANG	KATAWAGAN
L U Z O N	I	Rehiyong Ilocos
	II	Rehiyon ng Lambak ng Cagayan
	III	Rehiyon Gitnang Luzon
	IV-A	Rehiyon ng CALABARZON
	IV-B	Rehiyong MIMAROPA
	V	Rehiyong Bicol
	CAR NCR	Rehiyong Administratibo ng Cordillera Pambansang Rehiyon
V I S A Y A S	VI	Rehiyon ng Kanlurang Visayas
	VII	Rehiyon ng Gitnang Visayas
	VIII	Rehiyon ng Silangang Visayas
M I N D A N A O	IX	Rehiyon ng Zamboanga Peninsula
	X	Rehiyon ng Hilagang Mindanao
	XI	Rehiyon ng Davao
	XII	Rehiyon ng SOCCSARGEN
	XIII ARMM	Rehiyong CARAGA Rehiyong Autonomo ng Muslim Mindanao



Pag-isipan, bilangin at isa-isahin mo.

1. Ilang rehiyon ang nasasakupan ng Luzon? ng Visayas? ng Mindanao? Anu-ano ang mga ito?
2. Bakit kaya tinawag na Rehiyon ng Ilokos ang Rehiyon I?
3. Ano ang pangunahing wika na ginagamit sa mga rehiyon sa Visayas?
4. Ilan lahat ang mga rehiyon?
5. Bakit tinatawag na Kamusliman ang rehiyong ARMM?

Anu-ano ba ang mga lalawigan na bumubuo sa iba't ibang rehiyon? Narito ang mga talaan. Pag-aralan mo rin.

I. Rehiyong Ilocos

1. Ilocos Norte
2. Ilocos Sur
3. La Union
4. Pangasinan

II. Rehiyon ng Cagayan

1. Batanes
2. Cagayan
3. Isabela
4. Nueva Vizcaya
5. Quirino

III. Rehiyon ng Gitnang Luzon

1. Tarlac
2. Nueva Ecija
3. Zambales
4. Pampanga
5. Bataan
6. Bulacan
7. Aurora

IV. – A. CALABARZON

1. Cavite
2. Laguna
3. Batangas
4. Rizal
5. Quezon

IV. – B. MIMAROPA

1. Mindoro Oriental
2. Mindoro Occidental
3. Marinduque
4. Romblon
5. Palawan

V. Rehiyong Bicol

1. Camarines Norte
2. Camarines Sur
3. Catanduanes
4. Albay
5. Sorsogon
6. Masbate

VI. Rehiyon ng Kanlurang Visayas

1. Aklan
2. Capiz
3. Iloilo
4. Negros Occidental

VII. Rehiyon ng Gitnang Visayas

1. Negros Oriental
2. Cebu
3. Bohol
4. Siquijor



VIII. Rehiyon ng Silangang Visayas

1. Kanlurang Samar
2. Hilagang Samar
3. Silangang Samar
4. Leyte
5. Timog Leyte

IX. Rehiyon ng Zamboanga Peninsula

1. Zamboanga del Norte
2. Zamboanga del Sur
3. Zamboanga Sibugay

X. Rehiyon ng Hilagang Mindanao

1. Camiguin
2. Misamis Oriental
3. Misamis Occidental
4. Bukidnon
5. Lanao del Norte

XI. Rehiyong Davao

1. Davao del Norte
2. Davao del Sur
3. Davao Oriental
4. Lambak ng Compostela

XII. Gitnang Mindanao

1. South Cotabato
2. North Cotabato
3. Sultan Kudarat
4. Sarangani

XIII. CARAGA

1. Surigao del Norte
2. Surigao del Sur
3. Agusan del Norte
4. Agusan del Sur

Rehiyong Administratibo ng Cordillera (CAR)

1. Kalinga
2. Apayao
3. Abra
4. Lalawigang Bulubundukin
5. Ifugao
6. Benguet

Rehiyong Autonomo ng Kamuslimang Mindanao (ARMM)

1. Lanao del Sur
2. Maguindanao
3. Sulu
4. Tawi-tawi
5. Basilan

Pambansang Punong Rehiyon (NCR)

1. Lungsod ng Maynila
2. Lungsod ng Quezon
3. Lungsod ng Pasay
4. Lungsod ng Kalookan
5. Lungsod ng Makati
6. Lungsod ng Mandaluyong
7. Lungsod ng Pasig
8. Lungsod ng Marikina
9. Lungsod ng Las Piñas
10. Lungsod ng Parañaque
11. Lungsod ng Muntinlupa
12. Lungsod ng Valenzuela
13. Lungsod ng Malabon
14. Navotas
15. Pateros
16. San Juan
17. Lungsod ng Taguig



PAGSANAYAN MO

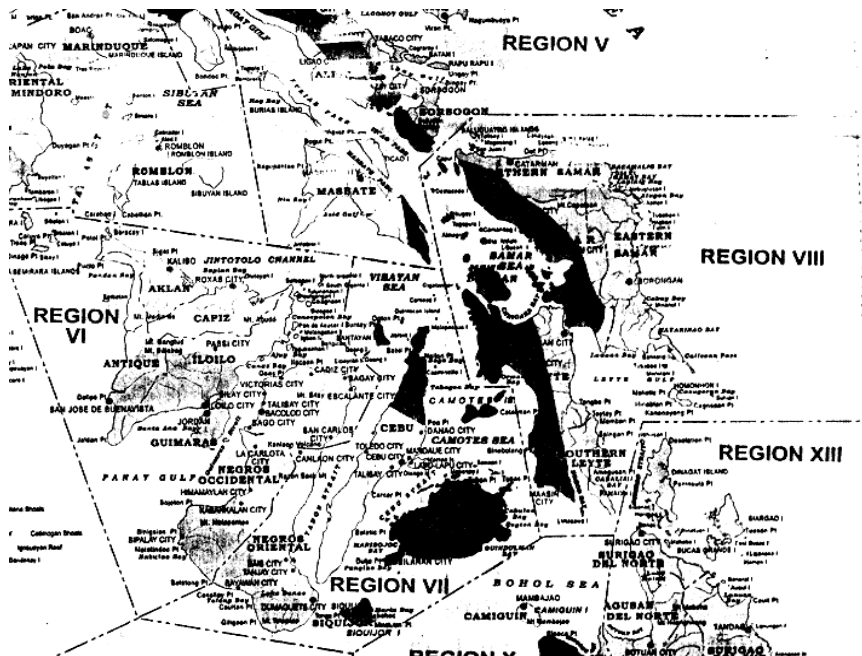
- Tingnan mo ang mapa ng Pilipinas. Iguhit mo ang itsura ng rehiyon na sumasakop ng inyong lalawigan.
- Pag-aralan at isaulo ang tula. Bigkasin nang may damdamin.

Diwa ng Pagkakaisa

*Mahalin, ipagmalaki ang mga lalawigan
Na siyang bumubuo sa bawat rehiyon
Ang mga mahirap at mga mayaman
Kung magtutulungan, buong bansa'y susulong.*

*Paunlarin natin bawat lalawigan
Sa pamamagitan ng pag-aasahan
Ang pagsisiraa'y dapat na iwasan
Diwang pagkakaisa'y iluklok sa bayan.*

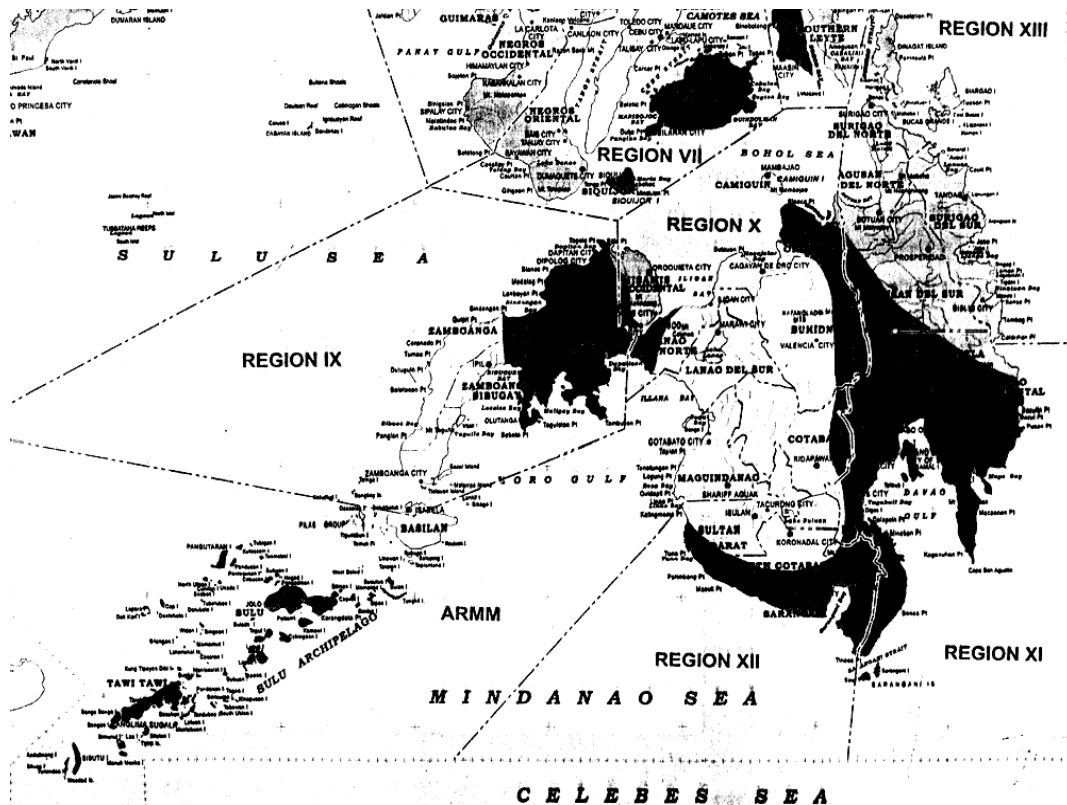
Narito ang mapa ng Visayas. Pag-aralan ito at sagutin ang mga kasunod na tanong.





1. Anu-ano ang mga lalawigang bumubuo sa Gitnang Visayas. Itala mo sa iyong kuwaderno.
2. Bakatin o iguhit ang mga lalawigang bumubuo sa Silangang Visayas. Kopyahin ito sa mapang nasa larawan.
3. Suriin mo ang mapa ng Pilipinas sa pahina 2. Bakit kaya tinawag na Gitnang Visayas ang rehiyong ito?
4. Saang bahagi ng Visayas matatagpuan ang buong Samar?
5. Kung pag-aaralan mo ang ayos ng mapa ng Visayas, ano sa palagay mo ang pangunahing uri ng sasakyan na ginagamit sa pagpapalipat-lipat ng rehiyon?

Ito naman ang mapa ng Mindanao. Pag-aralan mo ito nang mabuti.



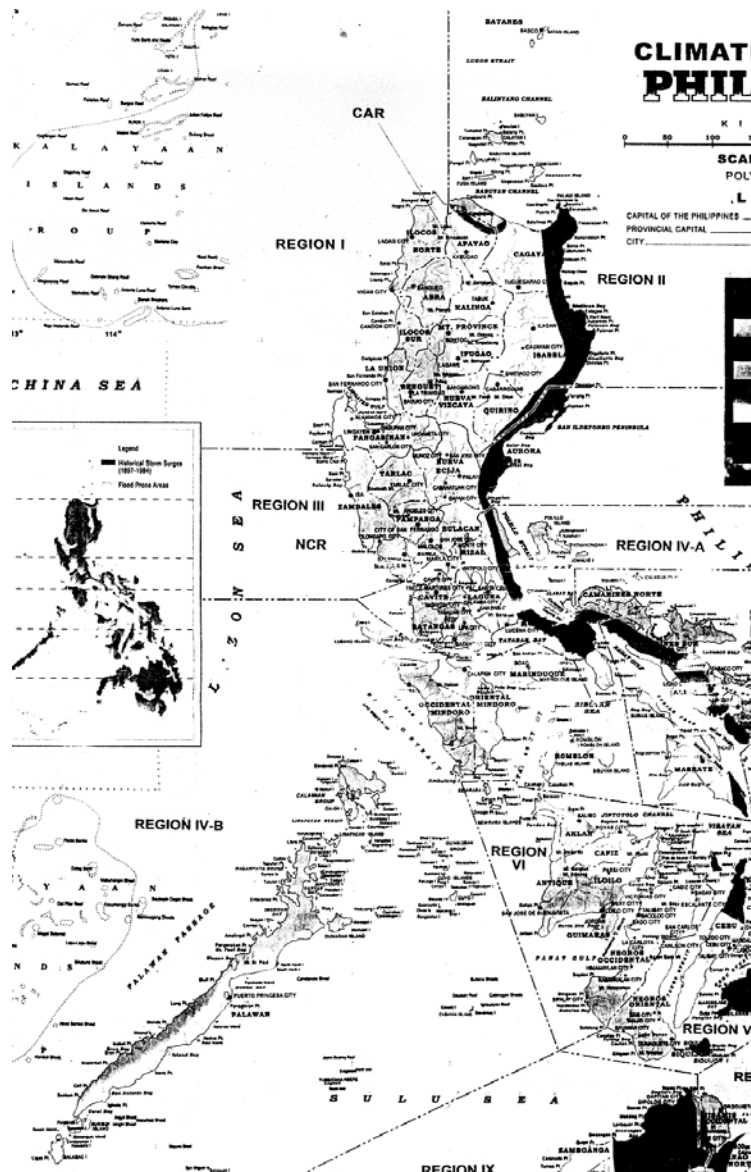
Sagutin at isulat ang sagot sa kuwaderno.

1. Anu-ano ang mga rehiyong bumubuo sa Mindanao?
2. Anu-ano ang lalawigan ng Rehiyong Davao?
3. Itala ang mga lalawigan ng Rehiyon ng CARAGA?
4. Saang Bahagi ng Mindanao makikita ang Rehiyong XII?
5. Anu-anong lalawigan ang bumubuo nito?





Ito naman ang mapa ng Luzon. Ang Luzon ang pinakamalaking pangkat ng pulong pangheograpiya ng Pilipinas.



1. Ilang rehiyon ang bumubuo sa Luzon?
2. Anu-ano ang mga lalawigan bumubuo sa Rehiyon ng Gitnang Luzon?
3. Ipaliwanag kung bakit ang Rehiyong Ilocos ay tinatawag na Hilagang kanlurang Luzon at ang Lambak ng Cagayan na Hilagang Silangang Luzon?
4. Itala ang mga lungsod at bayan ng Pambansang Rehiyon (NCR).



TANDAAN MO

- Ang bansa ay nahahati sa 17 rehiyon.
- Ang bawat rehiyon ay binubuo ng magkakalapit at magkakaugnay na lalawigan.
- Hinati-hati ang bansa sa mga rehiyon upang maging maayos ang pamamahala sa kalagayan at pamumuhay ng mga mamamayan.



ISAPUSO MO

Saang rehiyon ka nakatira? Bakit dapat mong ipagmalaki ang iyong rehiyon? Bakit kailangan mong sumunod sa mga patakaran at kautusan na nanggagaling sa mga pamunuan ng rehiyon?

Sumulat ka ng isang talata na tutugon sa mga katanungang binasa.



PAGTATAYA

A. Piliin sa Hanay B ang katawagan na binabanggit sa Hanay A. Isulat ang titik ng tamang sagot sa inyong kuwadernong sagutan.



HANAY A

1. Rehiyon V
2. ARMM
3. Rehiyon VI
4. Rehiyon IV-A
5. Rehiyon IV-B
6. Rehiyon IX
7. Rehiyon VIII
8. Rehiyon X
9. Rehiyon XI
10. CARAGA
11. Rehiyon III
12. CAR
13. Rehiyon I
14. Rehiyon VII
15. Rehiyon XII
16. NCR
17. Rehiyon II

HANAY B

- a. Lupa ng Masisigla at Matatapang na Tao
- b. Rehiyon ng mga Bicolano
- c. Kapatagan ng Gitnang Luzon
- d. Lambak ng Cagayan
- e. Rehiyong Autonomous ng Muslim Mindanao
- f. Rehiyong Administratibo ng Cordillera
- g. Pambansang Punong Rehiyon
- h. Rehiyon ng Kanlurang Visayas
- i. Rehiyon ng Gitnang Visayas
- j. Rehiyon ng Silangang Visayas
- k. Rehiyong Katagalugan
- l. Mga Islang Katagalugan
- m. Kanlurang Mindanao
- n. Hilagang Mindanao
- o. Timog Silangang Mindanao
- p. Rehiyon ng mga Ilokano
- q. Gitnang Mindanao

B. Hanapin sa mapa ang mga sumusunod na lalawigan at isulat sa kuwadernong sagutan ang rehiyong kinabibilangan.

- | | |
|----------------------------|---------------------------------|
| 1. Tarlac - _____ | 6. Misamis Oriental - _____ |
| 2. Sorsogon - _____ | 7. Timog Leyte - _____ |
| 3. Negros Oriental - _____ | 8. Sultan Kudarat - _____ |
| 4. Lanao del Norte - _____ | 9. Lambak ng Compostela - _____ |
| 5. Basilan - _____ | 10. Zamboanga Sibugay - _____ |

C. Isulat sa kuwadernong sagutan ang titik ng tamang sagot.

1. Alin sa mga sumusunod ang nagtatakda ng paghahati-hati ng bansa sa mga rehiyon?
 - a. Atas ng Pangulo blg. 373
 - b. Atas ng Pangulo blg, 773
 - c. Atas ng Pangulo blg, 737
 - d. Atas ng Pangulo blg, 337
2. Alin sa mga sumusunod ang dahilan ng paghahati-hati ng bansa sa rehiyon?
 - a. Upang mapaliit ang bilang ng krimen sa bansa
 - b. Upang mabigyan ng mga pagkakataon ang mga walang hanapbuhay
 - c. Upang baguhin ang sistema ng gobyerno ng bansa
 - d. Upang maging maayos at mabilis ang pamamahala ng bansa



3. Saang rehiyon matatagpuan ang mga nakararaming Ilokano?
 - a. Rehiyon I
 - b. Rehiyon IV
 - c. Rehiyon VIII
 - d. Rehiyon X

4. Aling rehiyon ang nasa gawing kanluran ng Visayas?
 - a. Rehiyon V
 - b. Rehiyon VI
 - c. Rehiyon VII
 - d. Rehiyon VIII

5. Aling rehiyon ang nasa kanluran ng Mindanao?
 - a. Rehiyon IX
 - b. Rehiyon X
 - c. Rehiyon XI
 - d. Rehiyon XII



Binabati kita at matagumpay mong natapos ang modyul na ito! Maaari mo na ngayong simulan ang susunod na modyul.